



Aufgabenblatt

Gruppe 1: Brachiosaurus brancai (Giraffatitan brancai)

- Betrachtet "euren" Saurier sehr genau: Schaut euch an, in welchem Größenverhältnis der Kopf zum Körper steht. Beschreibt die Zähne und die Gliedmaßen. Notiert euch auffällige Einzelheiten.

- Überlegt, ob der Saurier zu Lebzeiten auf zwei oder auf vier Beinen gelaufen ist.

2 Beine 4 Beine

Beschreibt, wie die Beine angeordnet sind.

- Überlegt, ob es sich bei dem Dinosaurier um einen Pflanzen- oder Fleischfresser handelt.

Pflanzenfresser Fleischfresser (Raubosaurier)

Beschreibt, wie der Dinosaurier gefressen hat.

- Ordnet den Saurier einer Gruppe zu (siehe Zusatzblatt):

Vogelbeckensaurier (Ornithischia) Echsenbeckensaurier (Saurischia)
 Sauropoden
 Theropoden

- Informiert euch über den Begriff "Dinosaurier".

- Schaut euch im hinteren Teil des Saales (Nische) den weltberühmten Archaeopteryx an. Informiert euch darüber, warum dieses Ausstellungsobjekt von großer Bedeutung ist.



Zusatzfragen

- Informiert euch darüber, warum das Ausstellungsobjekt des Brachiosaurus brancai so bedeutend ist.
- Stellt Vermutungen darüber an, weshalb sein Name 2009 geändert wurde.



Aufgabenblatt

Gruppe 2: Diplodocus carnegii

- Betrachtet "euren" Saurier sehr genau: Schaut euch an, in welchem Größenverhältnis der Kopf zum Körper steht. Beschreibt die Zähne und die Gliedmaßen. Notiert euch auffällige Einzelheiten.

- Überlegt, ob der Saurier zu Lebzeiten auf zwei oder auf vier Beinen gelaufen ist.

2 Beine 4 Beine

Beschreibt, wie die Beine angeordnet sind.

- Überlegt, ob es sich bei dem Dinosaurier um einen Pflanzen- oder Fleischfresser handelt.

Pflanzenfresser Fleischfresser (Raubosaurier)

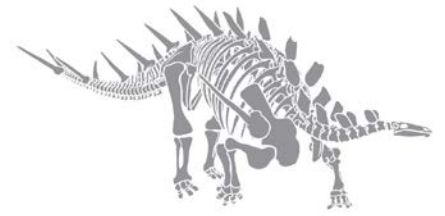
Beschreibt, wie der Dinosaurier gefressen hat.

- Ordnet den Saurier einer Gruppe zu (siehe Zusatzblatt):

Vogelbeckensaurier (Ornithischia) Echsenbeckensaurier (Saurischia)
 Sauropoden
 Theropoden

- Informiert euch über den Begriff "Dinosaurier".

- Schaut euch im hinteren Teil des Saales (Nische) den weltberühmten Archaeopteryx an. Informiert euch darüber, warum dieses Ausstellungsobjekt von großer Bedeutung ist.



Aufgabenblatt

Gruppe 3: Kentrosaurus aethiopicus

- Betrachtet "euren" Saurier sehr genau: Schaut euch an, in welchem Größenverhältnis der Kopf zum Körper steht. Beschreibt die Zähne und die Gliedmaßen. Notiert euch auffällige Einzelheiten.

- Überlegt, ob der Saurier zu Lebzeiten auf zwei oder auf vier Beinen gelaufen ist.

2 Beine 4 Beine

Beschreibt, wie die Beine angeordnet sind.

- Überlegt, ob es sich bei dem Dinosaurier um einen Pflanzen- oder Fleischfresser handelt.

Pflanzenfresser Fleischfresser (Raubosaurier)

Beschreibt, wie der Dinosaurier gefressen hat.

- Ordnet den Saurier einer Gruppe zu(siehe Zusatzblatt):

Vogelbeckensaurier (Ornithischia) Echsenbeckensaurier (Saurischia)

Sauropoden

Theropoden

- Informiert euch über den Begriff "Dinosaurier".

- Schaut euch im hinteren Teil des Saales (Nische) den weltberühmten Archaeopteryx an. Informiert euch darüber, warum dieses Ausstellungsobjekt von großer Bedeutung ist.

Aufgabenblatt

Gruppe 4: Dicraeosaurus hansemanni

- Betrachtet "euren" Saurier sehr genau: Schaut euch an, in welchem Größenverhältnis der Kopf zum Körper steht. Beschreibt die Zähne und die Gliedmaßen. Notiert euch auffällige Einzelheiten.

- Überlegt, ob der Saurier zu Lebzeiten auf zwei oder auf vier Beinen gelaufen ist.

2 Beine 4 Beine

Beschreibt, wie die Beine angeordnet sind.

- Überlegt, ob es sich bei dem Dinosaurier um einen Pflanzen- oder Fleischfresser handelt.

Pflanzenfresser Fleischfresser (Raubsaurier)

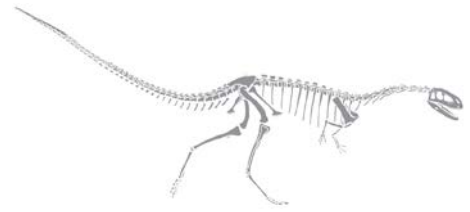
Beschreibt, wie der Dinosaurier gefressen hat.

- Ordnet den Saurier einer Gruppe zu(siehe Zusatzblatt):

Vogelbeckensaurier (Ornithischia) Echsenbeckensaurier (Saurischia)
 Sauropoden
 Theropoden

- Informiert euch über den Begriff "Dinosaurier".

- Schaut euch im hinteren Teil des Saales (Nische) den weltberühmten Archaeopteryx an. Informiert euch darüber, warum dieses Ausstellungsobjekt von großer Bedeutung ist.



Aufgabenblatt

Gruppe 5: Elaphrosaurus bambergi

- Betrachtet "euren" Saurier sehr genau: Schaut euch an, in welchem Größenverhältnis der Kopf zum Körper steht. Beschreibt die Zähne und die Gliedmaßen. Notiert euch auffällige Einzelheiten.

- Überlegt, ob der Saurier zu Lebzeiten auf zwei oder auf vier Beinen gelaufen ist.

2 Beine 4 Beine

Beschreibt, wie die Beine angeordnet sind.

- Überlegt, ob es sich bei dem Dinosaurier um einen Pflanzen- oder Fleischfresser handelt.

Pflanzenfresser Fleischfresser (Raubosaurier)

Beschreibt, wie der Dinosaurier gefressen hat.

- Ordnet den Saurier einer Gruppe zu (siehe Zusatzblatt):

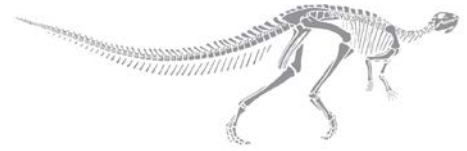
Vogelbeckensaurier (Ornithischia) Echsenbeckensaurier (Saurischia)

Sauropoden

Theropoden

- Informiert euch über den Begriff "Dinosaurier".

- Schaut euch im hinteren Teil des Saales (Nische) den weltberühmten Archaeopteryx an. Informiert euch darüber, warum dieses Ausstellungsobjekt von großer Bedeutung ist.



Aufgabenblatt

Gruppe 6: Dysalotosaurus lettowvorbecki

- Betrachtet "euren" Saurier sehr genau: Schaut euch an, in welchem Größenverhältnis der Kopf zum Körper steht. Beschreibt die Zähne und die Gliedmaßen. Notiert euch auffällige Einzelheiten.

- Überlegt, ob der Saurier zu Lebzeiten auf zwei oder auf vier Beinen gelaufen ist.

2 Beine 4 Beine

Beschreibt, wie die Beine angeordnet sind.

- Überlegt, ob es sich bei dem Dinosaurier um einen Pflanzen- oder Fleischfresser handelt.

Pflanzenfresser Fleischfresser (Raubosaurier)

Beschreibt, wie der Dinosaurier gefressen hat.

- Ordnet den Saurier einer Gruppe zu (siehe Zusatzblatt):

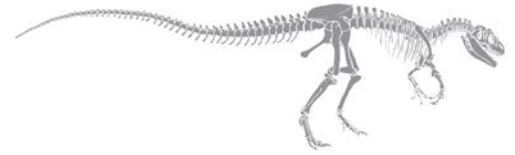
Vogelbeckensaurier (Ornithischia) Echsenbeckensaurier (Saurischia)

Sauropoden

Theropoden

- Informiert euch über den Begriff "Dinosaurier".

- Schaut euch im hinteren Teil des Saales (Nische) den weltberühmten Archaeopteryx an. Informiert euch darüber, warum dieses Ausstellungsobjekt von großer Bedeutung ist.



Aufgabenblatt

Gruppe 7: Allosaurus fragilis

- Betrachtet "euren" Saurier sehr genau: Schaut euch an, in welchem Größenverhältnis der Kopf zum Körper steht. Beschreibt die Zähne und die Gliedmaßen. Notiert euch auffällige Einzelheiten.

- Überlegt, ob der Saurier zu Lebzeiten auf zwei oder auf vier Beinen gelaufen ist.

2 Beine 4 Beine

Beschreibt, wie die Beine angeordnet sind.

- Überlegt, ob es sich bei dem Dinosaurier um einen Pflanzen- oder Fleischfresser handelt.

Pflanzenfresser Fleischfresser (Raubosaurier)

Beschreibt, wie der Dinosaurier gefressen hat.

- Ordnet den Saurier einer Gruppe zu (siehe Zusatzblatt):

Vogelbeckensaurier (Ornithischia) Echsenbeckensaurier (Saurischia)
 Sauropoden
 Theropoden

- Informiert euch über den Begriff "Dinosaurier".

- Schaut euch im hinteren Teil des Saales (Nische) den weltberühmten Archaeopteryx an. Informiert euch darüber, warum dieses Ausstellungsobjekt von großer Bedeutung ist.
